

# مدرسة ليبيا المستقبل – نوتنغهام




موقع المدرسة على شبكة الإنترنت

<http://libyafutureschool.weebly.com/>

إيميل المدرسة

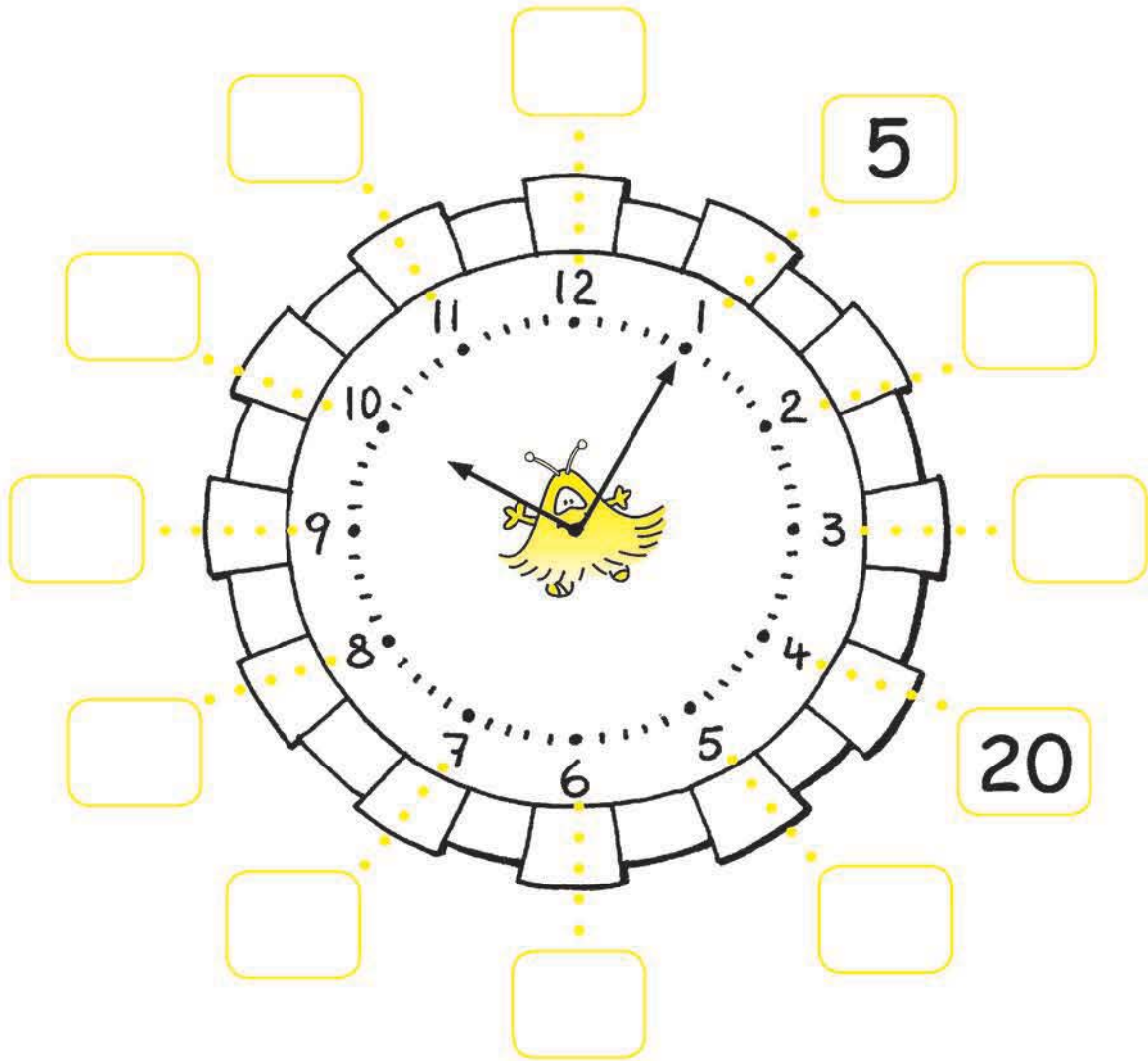
[libya.future.notts@gmail.com](mailto:libya.future.notts@gmail.com)

تمنياتنا للجميع بالتوفيق



## تدريب 1

(1) املا الفراغات حول الساعة بالدقائق.




(2) أملاً الفِراغاتِ .  
مثال .



يُشيرُ عَقْرَبُ الدَّقَائِقِ إِلَى 30 دَقِيقَةً .

( أ )




يُشيرُ عَقْرَبُ الدَّقَائِقِ إِلَى \_\_\_\_\_ دَقِيقَةً .

( ب )



يُشيرُ عَقْرَبُ الدَّقَائِقِ إِلَى \_\_\_\_\_ دَقِيقَةً .

( ج )




يُشيرُ عَقْرَبُ الدَّقَائِقِ إِلَى \_\_\_\_\_ دَقِيقَةً .

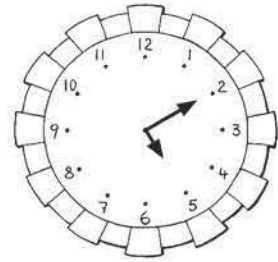
## تَدْرِيب 2

(1) مائِلٌ .

8:55




9:30



2:20



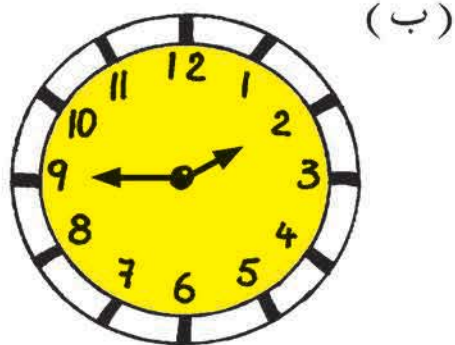
5:10




11:40




(2) كم الساعة؟



الساعة \_\_\_\_\_.




7:40 الساعة \_\_\_\_\_.




الساعة \_\_\_\_\_.



الساعة \_\_\_\_\_.

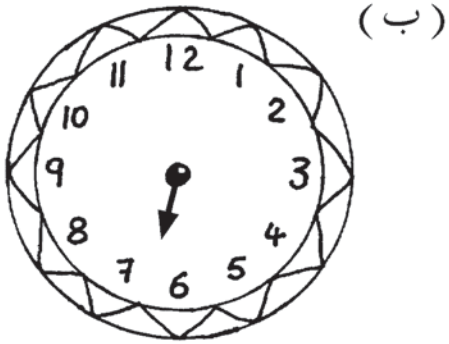


الساعة \_\_\_\_\_.




الساعة \_\_\_\_\_.


(3) ارْضُم عَقْرَبَ دَقَائِقِ السَّاعَةِ .



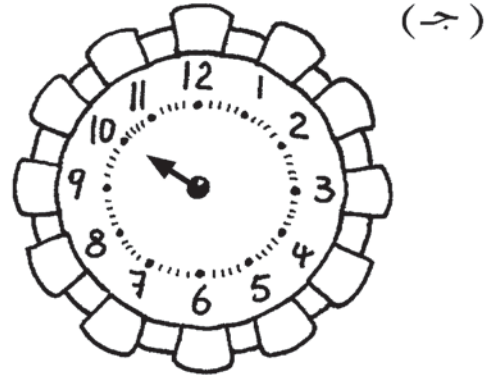
السَّاعَةُ 6:30



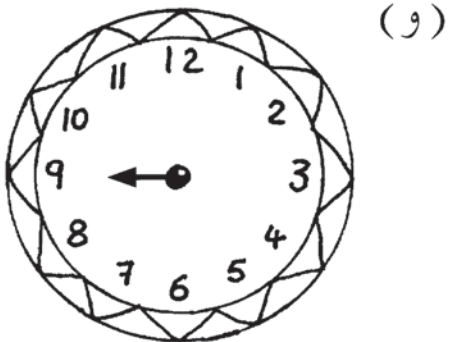
السَّاعَةُ 3:55




السَّاعَةُ 8:00



السَّاعَةُ 10:15

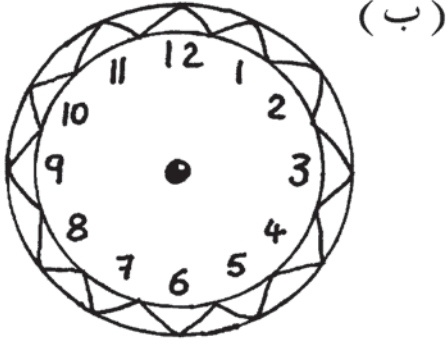


السَّاعَةُ 9:05




السَّاعَةُ 12:40


(4) ارُسْمُ عَقْرَبِي السَّاعَةِ.



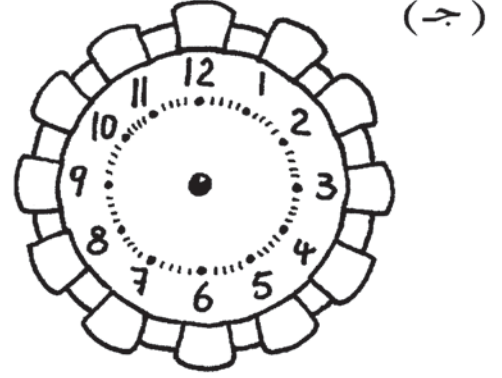
السَّاعَةُ 4:50



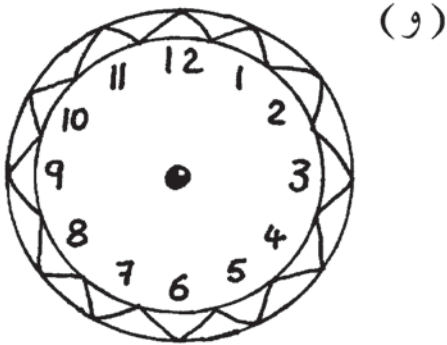
السَّاعَةُ 7:15



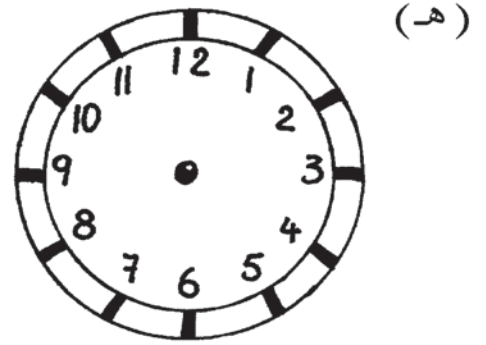
السَّاعَةُ 9:25



السَّاعَةُ 1:20



السَّاعَةُ 9:50



السَّاعَةُ 7:00

### تَدْرِيب 3


اَكْتُبْ صِ أَوْ مِ .

(1)



يَسْتَيْقِظُ أَحْمَدُ السَّاعَةَ 6:30

(2)



يَبْدَأُ الْجَدَّانِ تَمْرِينَاتِ الصَّبَاحِ

السَّاعَةَ 6:50

(3)


يَرْكَبُ أَحْمَدُ الدَّرَاجَةَ بَعْدَ الظُّهْرِ أحياناً

السَّاعَةَ 2:50





(4)



تَغْرُبُ الشَّمْسُ حَوْلِي السَّاعَةِ 7:25

(5)



يَتَنَاوَلُ أَحْمَدُ عِشَاءَهُ مَعَ أُخْتِهِ

السَّاعَةِ 7:30

(6)




يُحِبُّ وَالِدُهُ مُمَارَسَةَ رِيَاضَةِ الْجَرْيِ لَيْلًا



يَجْرِي عَادَةً السَّاعَةَ 8:30

# تَدْرِيب 4


(1) اَمَلِ الفَرَاغَاتِ .



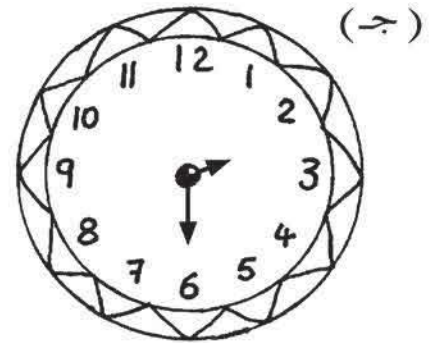
30 ق بَعْدَ .



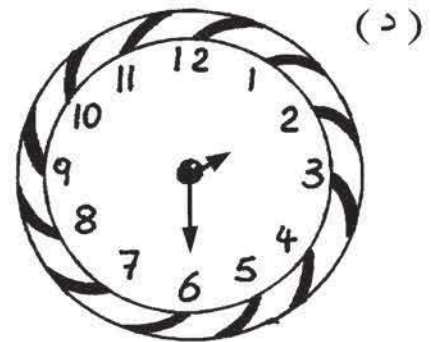
ق قَبْلَ .




ق قَبْلَ .




ق بَعْدَ .







1 س قَبْلَ .




(2) (أ)



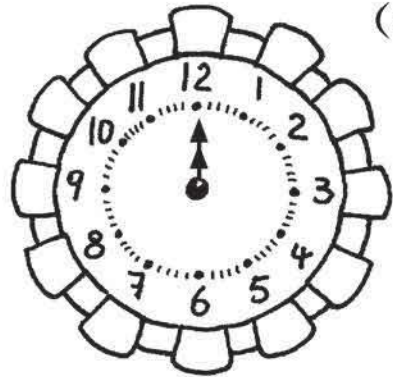
س قَبْلَ .




(ب)




س بَعْدَ .



(ج)




س قَبْلَ .



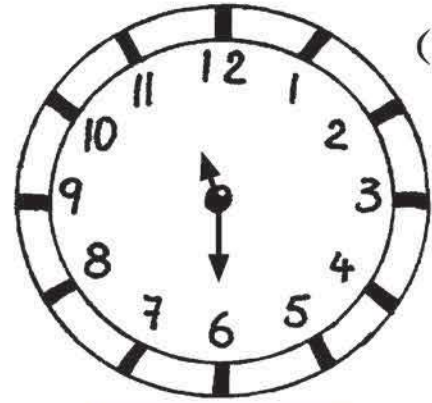
(د)

## تَدْرِيب 5

(1) ارْضُمِ الْعَقْرَيْنِ عَلَى السَّاعَةِ وَاكْتُبِ الْوَقْتَ .





11:00




11:30

30 ق بَعْدَ




30 ق بَعْدَ



30 ق بَعْدَ


(2) اَمَلِ الْفَرَاقَاتِ بِالْوَقْتِ الصَّحِيحِ .  
تَأَكِّدُ بِرِسْمِ عَقْرَبَيْ السَّاعَةِ كَمَا هُوَ مُبَيَّنٌّ .

مِثَالٌ




2:00

30 ق قَبْلَ



1:30

(أ)



30 ق قَبْلَ



3:00

(ب)




30 ق قَبْلَ





9:30

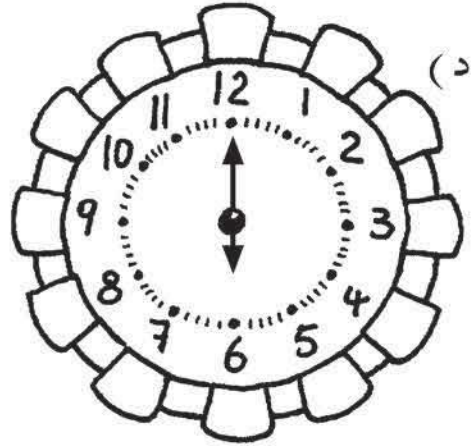
(ج)




30 ق بَعْدَ .



30 ق بَعْدَ .



(د)




30 ق بَعْدَ .




(هـ)

## تَدْرِيب 6

(1) ارْضُمِ الْعَقْرَيْنِ عَلَى السَّاعَةِ وَارْكَتُبِ الْوَقْتَ.




6:00




7:00

1 س بَعْدَ





1 س قَبْلَ







1 س قَبْلَ






(2) املا الفراغات بالوقت الصحيح.  
تأكد برسم عقربتي الساعة كما هو مبين.




4:00

1 س بَعْدَ .




5:00

مثال




1 س قَبْلَ .




11:00

(أ)



1 س قَبْلَ .



8:00

(ب)






1 س بَعْدَ .




(ج)

10:00




1 س قَبْلَ .



(د)

6:00



1 س بَعْدَ .



(هـ)

4:00



## مُرَاجَعَة 3



(1) اَمَلِّ الفَرَاقَاتِ .


35 ، 30 ، \_\_\_\_\_ ، \_\_\_\_\_ ، 15 ، 10 ، 5 ( أ )

24 ، 20 ، \_\_\_\_\_ ، \_\_\_\_\_ ، 8 ، 4 ( ب )

50 ، 40 ، 30 ، \_\_\_\_\_ ، \_\_\_\_\_ ( ج )

\_\_\_\_\_ ، \_\_\_\_\_ ، 20 ، 16 ، \_\_\_\_\_ ( د )

\_\_\_\_\_ ، 45 ، 40 ، \_\_\_\_\_ ، 30 ( هـ )



(2) اَجْمَعْ وَاطْرَحْ .

$$\underline{\hspace{2cm}} = 8 + 73 \text{ ( ب )}$$

$$\underline{\hspace{2cm}} = 9 + 46 \text{ ( أ )}$$

$$\underline{\hspace{2cm}} = 54 - 890 \text{ ( د )}$$

$$\underline{\hspace{2cm}} = 99 - 123 \text{ ( ج )}$$

$$\underline{\hspace{2cm}} = 80 + 468 \text{ ( و )}$$

$$\underline{\hspace{2cm}} = 98 + 210 \text{ ( هـ )}$$

$$\underline{\hspace{2cm}} = 77 - 357 \text{ ( ح )}$$

$$\underline{\hspace{2cm}} = 26 - 570 \text{ ( ز )}$$

$$24 = 4 \times 6 \text{ (أ) (3)}$$

\_\_\_\_\_ = \_\_\_\_\_ ÷ \_\_\_\_\_ إذا

\_\_\_\_\_ = \_\_\_\_\_ ÷ \_\_\_\_\_ و



$$90 = 10 \times 9 \text{ (ب)}$$

\_\_\_\_\_ = \_\_\_\_\_ ÷ \_\_\_\_\_ إذا

\_\_\_\_\_ = \_\_\_\_\_ ÷ \_\_\_\_\_ و



$$30 = 5 \times 6 \text{ (ج)}$$

\_\_\_\_\_ = \_\_\_\_\_ ÷ \_\_\_\_\_ إذا

\_\_\_\_\_ = \_\_\_\_\_ ÷ \_\_\_\_\_ و

(ب)



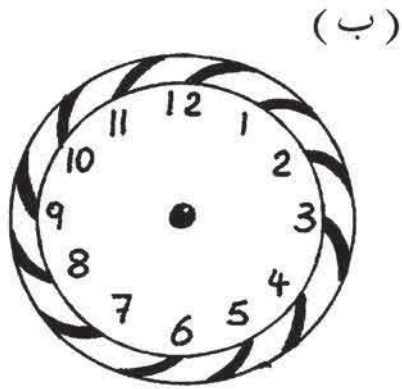
الساعة \_\_\_\_\_ .

(أ) (4)

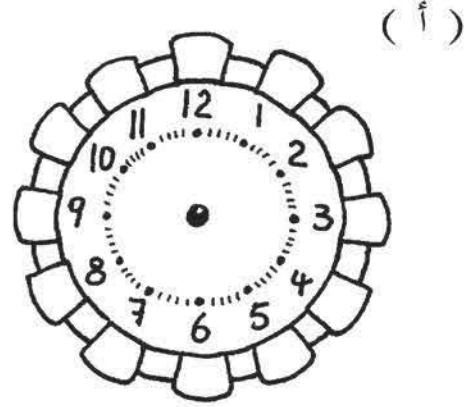


الساعة \_\_\_\_\_ .

(5) ارْسُمِ عَقْرَبَيْ السَّاعَاتِ وَالدَّقَائِقِ لِبَيَانِ الْوَقْتِ .

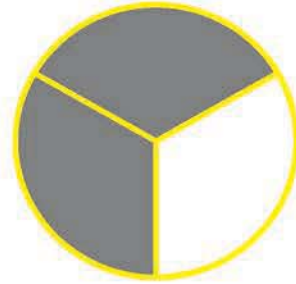


السَّاعَةُ 7:10




السَّاعَةُ 12:30



(6) اكتب في  الكسر الذي يمثّل الأجزاء المُظَلَّلة.



(أ)



(ب)



(ج)

(7) اشترت صفاً 7 أكياس من رقائق البطاطس .

ثمن كل كيس 4 د .

كم دفعت ثمناً لهذه الأكياس؟



$$\underline{\hspace{2cm}} = \underline{\hspace{2cm}} \times \underline{\hspace{2cm}}$$

ثمن الأكياس \_\_\_\_\_ د .

(8) رتبت نبهانة 20 مقعداً في صفوف .

في كل صف 4 مقاعد .

ما عدد الصفوف؟

$$\underline{\hspace{2cm}} = \underline{\hspace{2cm}} \div \underline{\hspace{2cm}}$$

يوجد \_\_\_\_\_ صفوف من المقاعد .

(9) وزعت شيماء 20 د بالتساوي بين أطفالها .

أخذ كل طفل 4 د .

ما عدد الأطفال؟

$$\underline{\hspace{2cm}} = \underline{\hspace{2cm}} \div \underline{\hspace{2cm}}$$

شيماء لديها \_\_\_\_\_ أطفال .

(10) وَضَعَتْ فَهْمَانَةَ 32 بِطَاقَةً بَرِيدِيَّةً فِي بَعْضِ الْمَظَارِيفِ .  
كُلُّ مَظْرُوفٍ بِهِ 4 بِطَاقَاتٍ .  
كَمْ مَظْرُوفًا تَحْتَاجُ لِتَضَعَ فِيهَا جَمِيعَ الْبِطَاقَاتِ ؟

$$\underline{\hspace{2cm}} = \underline{\hspace{2cm}} \div \underline{\hspace{2cm}}$$

تَحْتَاجُ \_\_\_\_\_ مَظَارِيفَ لِوَضْعِ جَمِيعِ الْبِطَاقَاتِ .

(11) اشْتَرَى 8 تَلَامِيذٌ تَذَاكِرَ لِإِحْدَى الْحَفَلَاتِ الْمَوْسِيقِيَّةِ .  
ثَمَّنُ التَّذَكِرَةَ 10 د .  
كَمْ دَفَعَ جَمِيعُ التَّلَامِيذِ ؟

$$\underline{\hspace{2cm}} = \underline{\hspace{2cm}} \times \underline{\hspace{2cm}}$$

دَفَعَ التَّلَامِيذُ \_\_\_\_\_ د .

(12) وَضَعَتْ إِيمَانُ 30 بَيْضَةً فِي بَعْضِ السَّلَالِ .  
وَضَعَتْ 10 بَيْضَاتٍ فِي كُلِّ سَلَّةٍ .  
كَمْ سَلَّةً اسْتَحْدَمَتْ إِيمَانُ ؟

$$\underline{\hspace{2cm}} = \underline{\hspace{2cm}} \div \underline{\hspace{2cm}}$$

اسْتَحْدَمَتْ إِيمَانُ \_\_\_\_\_ سَلَالٍ .

# ملاحظات

# ملاحظات



# ملاحظات

# ملاحظات

# ملاحظات

# ملاحظات